


*Дистанционная работа с дошкольниками  
среднего - старшего возраста и их  
родителями в домашних условиях*

*Презентация по формированию элементарных математических представлений*



*Подготовил:*

*Воспитатель группы компенсирующей направленности*

*Рябова Виолетта Валерьевна*

г. Новый Уренгой  
9-13 октября 2023г.


**- Здравствуйте, ребята вы любите математику?**

**Уверены в своих силах и знаниях?**

**Тогда для начала я предлагаю вам провести небольшую  
разминку.**

- Сколько носов у трех котиков?
- Сколько ушей у двух мышечей?
- Какая цифра спряталась в слове “семь-я”?
- Сколько пальцев на одной руке?
- Какой сегодня день недели?
- Сколько раз в году бывает день рождения?
- Какое сейчас время года?
- Сколько углов в треугольнике?
- Сколько дней в одной неделе?
- Что бывает раньше: утро или вечер?
- Сколько спинок у трех свинок?
- Сколько животиков у пяти бегемотиков?

Следующая игра «Назовите числа по порядку, которые стоят между ...»



2 и 9  
3 и 5  
1 и 7  
4 и 8

Следующее задание для самых внимательных. Найди числа, которое потерялись.

1

2

3

5

6

8

9

10



- Следующая игра называется  
«Какое число называют  
при счёте ДО и ПОСЛЕ ...»

8

3

7


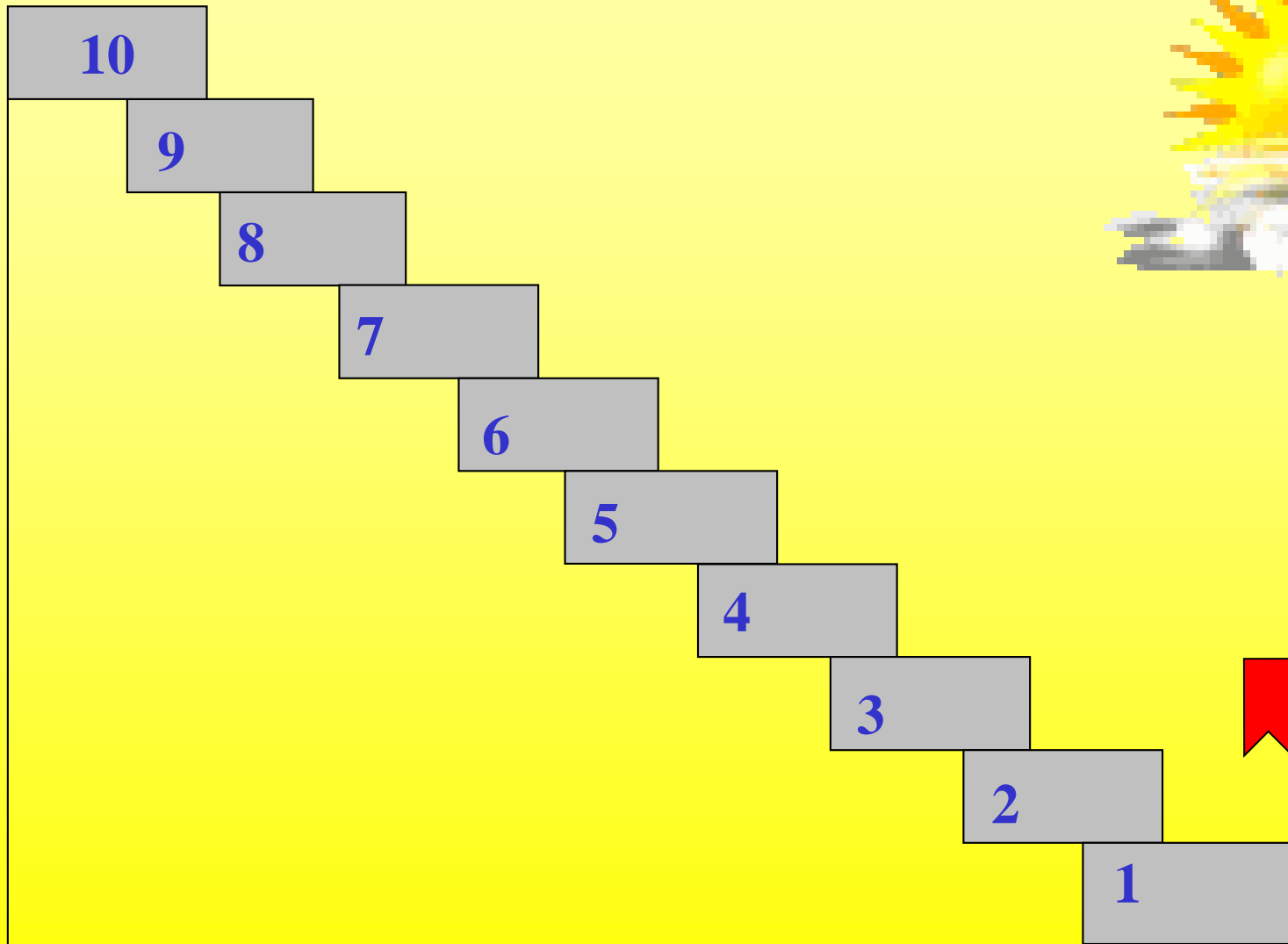
5



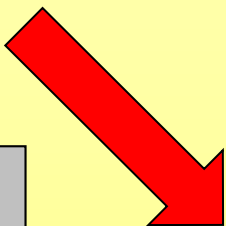
9

6

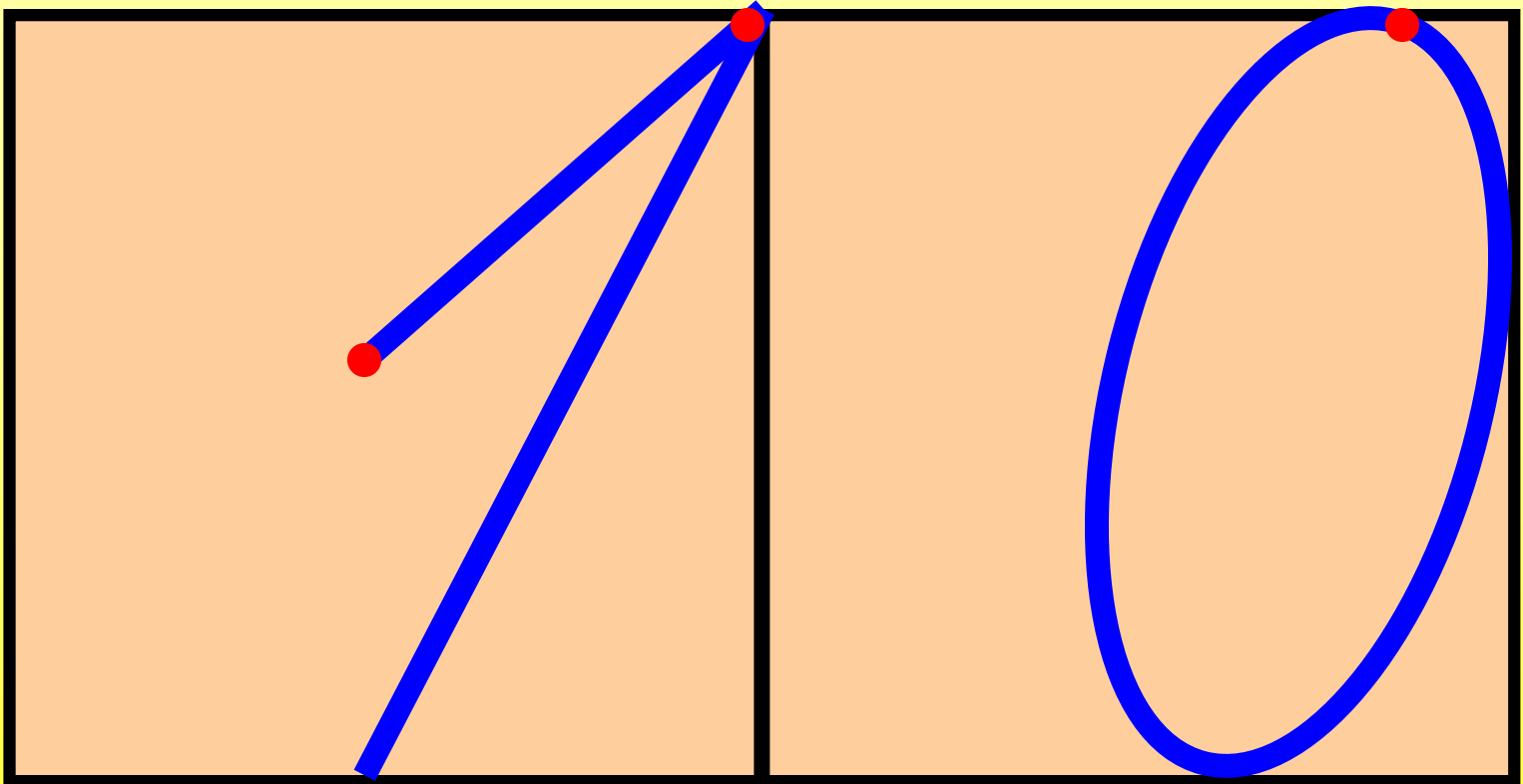
*-Ребята, а теперь давайте  
посчитаем от 1 до 10.*



*-Ребята, а теперь  
давайте посчитаем  
от 10 до 1.*



*- Так цифра 10 пишется! Запомни!*





# Физминутка

**В огород пойдём,**

*(шаги на месте)*

**Урожай соберём.**

**Мы моркови натаскаем**

*(«таскают»)*

**И картошки накопаем.**

*(«копают»)*

**Срежем мы кочан капусты,**

*(«срезают»)*

**Круглый, сочный, очень вкусный,**

*(показывают круг руками три раза)*

**Щавеля нарвём немножко**



*(«рвут»)*

**И вернёмся по дорожке.**


*(шаги на месте)*











**-Следующее задание**  
**«Составь и реши**  
**задачу».**



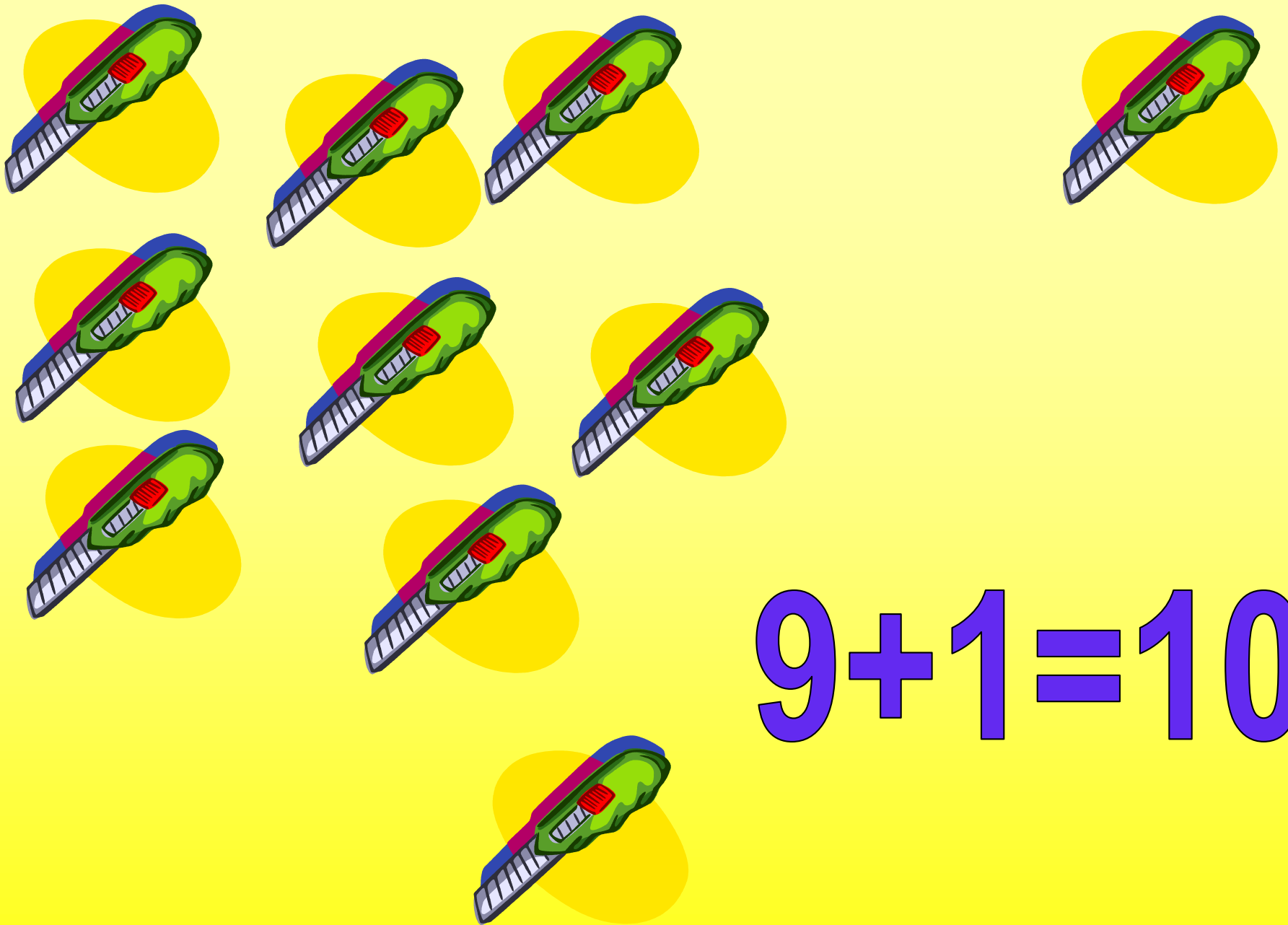
$$5+5=10$$



$$6+4=10$$



$$3 + 7 = 10$$



$$9 + 1 = 10$$





$$8 + 2 = 10$$



-Ребята, помогите Дедушке и Бабушке  
решить примеры.



$$9 + 1 = 10$$

$$8 + 2 = 10$$

$$7 + 3 = 10$$

$$6 + 4 = 10$$

$$5 + 5 = 10$$

*Молодцы, ребята!*  
*Отлично справились со всеми*  
*заданиями.*

